

# WINTER HOLIDAYS HOMEWORK



**CLASS: V**

Dear Students

Note the instructions regarding Winter Holidays Assignment

1. Do the homework in neat handwriting in fair notebook.
2. The homework must be done by you only.

Enjoy your holidays.

Wishing you a very Happy New Year.



Sri Guru Harkrishan Public School, Ludhiana.

English Assignment. Class V Session 2022-23

Name \_\_\_\_\_ Section \_\_\_\_\_ M.M. 20

Roll No \_\_\_\_\_ Date \_\_\_\_\_

Q1. Read the following passage and answer the questions:- (5)

Let us know more about the national anthem. Whenever the President of India makes a public speech, a familiar musical tone starts the function. The President is the head of our Republic and his speech is preceded and followed by the National anthem. Our national anthem was written by Rabindra Nath Tagore. The Government of India adopted the famous Jana-Gana-Mana as the National anthem of India because it reflects the spirit of Indian nationalism and our national integration. The national anthem and its official tune are used at the Government functions. The anthem has great sanctity and is at par with other government emblems such as the national flag. All government functions are preceded and followed by the anthem. It is such an important item of public life that no one can use it casually. For instance, no one is allowed to parody the anthem or its tune.

1. The passage is about the \_\_\_\_\_.

2. The familiar musical tone starts the function when \_\_\_\_\_.

3. \_\_\_\_\_ is preceded and followed by the national anthem.

4. Who wrote our national anthem?



5. What did the government of India adopt as the national anthem and why?

6. Choose the correct spellings:

a) i) Sanctity ii) Santity iii) Sanctity iv) Suncity

b) i) nationalizm ii) nationalism iii) nationalism  
iv) nashionalism.

7) Frame the sentence.

i) Casually. →

8) Write three forms of the verb:-  
Make. →

Q2. Choose two friends in your class who are very different from each other. Use the adjective in the box to describe their nature. You may also add your own adjective to describe them.

Hints: [naughty, lively, sharing, careless, studious, quiet, friendly, helpful, regular, cheerful]



Q3. Do as directed :- (Do any 7). (7 marks)

(1) Greta \_\_\_\_\_ plays hockey. (Adverb of Frequency)

(2) The candle is burning \_\_\_\_\_ (Adverb of Manner)

(3) The farm house is \_\_\_\_\_ near. (Adverb of Degree)

(4) Some boys are playing \_\_\_\_\_ (Adverb of Place)

(5) By the end of this year she \_\_\_\_\_ a lot of money. (save) . Future Perfect Tense.

(6) The patient \_\_\_\_\_ before the doctor came. (die) Past Perfect Tense.

(7) We \_\_\_\_\_ to market. (go) Present Perfect Tense.

(8) The bus stopped \_\_\_\_\_ the bus stop. (Fill in blanks with suitable preposition)

(a) This plane travel \_\_\_\_\_ Agra and Delhi only. (Fill in blank with suitable preposition)

Q:-> Answer the following questions :-

1. What did Mita and Ratnesh buy while shopping at the New Market?

2. What does Bessie feel about her Doll?

3. Why did Andrew start whistling, while going to Mrs. Jones' house?

4. Mention any two good qualities of Rini?

5. What did Andrew's mother prepare for him after he came back?

Word-Meanings :-

i) Shattered ii) Vain iii) Renowned iv) pale



Tri Bussu Harkrishan Public School, Ludhiana.

Class V

Session - 2022-23

Subject English

M.M. 20

Section - A.

Q1. Read the passage and answer the following questions. (5)

The women of the May flower were busy, too. Some were spinning, some knitting and some sewing. It was so bright and pleasant that Mistress Rose Standish had taken out her knitting and gone to sit a little while on deck. She was too weak to face rough weather, and she wanted to enjoy the warm sunshine and clear salt air. By her side was Mistress Brewster, the minister's wife. Everybody loved Mistress Standish and Mistress Brewster, for neither of them ever spoke unkindly. The air on the deck would have warm even on a colder day, for in one corner a bright fire was burning. It would seem strange now, would it not, to see a fire on the deck of a vessel? But in those days, when weather was pleasant, people on shipboard did their cooking on deck.

Q1. What were the women of May flower doing?

Q2. Why had Mistress Rose gone to sit on the deck?

Q3. Why did people love Mistress Standish and Mistress Brewster?

Q4. Why was it warm on the deck?



Q: Find the antonyms of the following words from the above passage:-

a) Dark -

b) Smooth -

c) Familiar -

d) Strong -

### Section - B (Grammar)

Q<sup>2</sup> Write a paragraph about the value of Games. (5)

Hints are given:- [ A part of education -- sound mind  
in a sound body -- teach sportsmanship  
-- one looks healthy and well groomed -- they free  
us from anger -- social values -- teach  
discipline and patience ... those excel represent  
the country in Olympics -- win name and fame ]

Q<sup>3</sup> Section - C (Grammar)

Do as directed

(2)  
10) Choose the correct adverbs from brackets to fill in the blanks.

(1) Vandana will leave for Coth \_\_\_\_\_ (yesterday/soon).

(2) Please take the clothes \_\_\_\_\_ (for/inside) if it rains.

Fill in the blanks :- (Prepositions)

(3) My birthday is \_\_\_\_\_ May. (1)

(4) I will meet you \_\_\_\_\_ 6:00 p.m.

(5) My brother \_\_\_\_\_ from the vacation. (return) (2)

(6) I \_\_\_\_\_ with so many actors. (work) (Present Perfect Tense)



## Section-D

Write a letter to your friend describing how you celebrated your birthday.

Q: Extract:

Matilda Jane, you never look  
At any toy or picture book  
I show you pretty things in vain  
You must be blind, Matilda Jane!

Q:- Name the poem and the poet.

Q:- Write the antonym of word 'Pretty'.

Q:- Why Bassie felt bad in the above line?

Glossary words:

- a) bramble
- b) backyard
- c) deaf
- d) astonished
- e) throng
- f) physician
- g) established



## Assignment-1 Subject - Maths

(M.M.20)

1, Add:-

(4)

- (a) 280 m 15 cm, 412 m 37 cm and 608 m 93 cm  
 (b) 709 l 392 ml, 506 l 745 ml and 212 l 95 ml  
 (c) 607 kg 200 g, 800 g and 10 kg 250 g  
 (d) 267 g 343 mg, 216 g 518 mg and 73 g 55 mg

2, Subtract:-

(4)

- (a) 16 kg 240 g from 30 kg 300 g  
 (b) 108 l from 202 l 350 ml  
 (c) 188 km 287 m from 690 km 435 m  
 (d) 218 m 50 cm from 515 m 56 cm

3, Multiply:-

(2)

- (a) 108 km 5 m by 15  
 (b) 7 l 812 ml by 16

4, Divide:-

(2)

- (a) 832 cm 40 mm by 4  
 (b) 28 l 608 ml by 8

5, Find the area of rectangle, whose

(2)

- (a)  $l = 14\text{ m}$ ,  $b = 8\text{ m}$   
 (b)  $l = 15.5\text{ m}$ ,  $b = 8.2\text{ cm}$

6, Find area of square whose side is:- (2)

- (a) 12 cm  
 (b) 25 m

7, Find volume of cuboid whose

(4)

- (a)  $l = 19\text{ cm}$ ,  $b = 10\text{ cm}$ ,  $h = 12\text{ cm}$   
 (b)  $l = 20\text{ cm}$ ,  $b = 11\text{ cm}$ ,  $h = 7\text{ cm}$   
 (c)  $l = 15\text{ cm}$ ,  $b = 12\text{ cm}$ ,  $h = 9\text{ cm}$   
 (d)  $l = 22\text{ cm}$ ,  $b = 18\text{ cm}$ ,  $h = 8\text{ cm}$



## Assignment-2


Subject- Maths

M.M-20


1, Identify the type of angle:-

(4)


(a)




(b)



(c)



(d)



2, Draw the following angles using a protractor:-

(4)

(a)  $\angle ABC = 30^\circ$

(b)  $\angle RST = 55^\circ$

(c)  $\angle MNO = 90^\circ$

(d)  $\angle PQR = 120^\circ$

3, Find the diameter of circle whose radius is:-

(2)

(a) 8cm

(b) 6.2cm

4, Find the radius of circle whose diameter is:-

(2)

(a) 7cm

(b) 10.4cm

5, Find the sum:-

(2)

(a) 4min 42sec + 6min 29sec

(b) 2h 25min + 15sec + 3h 50min 8sec.

6, Find the difference:-

(2)

(a) 10h 20min - 4h 45min

(b) 14h 41min 10sec - 8h 16min 9sec

7, Convert the temperatures to  $^\circ F$ 

(2)

(a)  $20^\circ C$

(b)  $50^\circ C$

8, Convert the temperatures to  $^\circ C$ 

(2)

(a)  $149^\circ F$

(b)  $167^\circ F$



December Exams – 2022

Paper- Mathematics

Class 5<sup>th</sup>

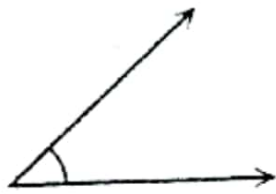
MM- 40

PART – A

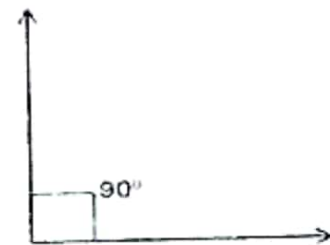
(1×6=6)

1. Perimeter of rectangle =  $2(\text{---} + \text{---})$
2. Fill in the blanks :
  - a) 43 kg =  $\text{---}$  g
  - b) 4 m =  $\text{---}$  cm
3. a) Area of square =  $4 \times \text{---}$   
b) Area of rectangle =  $\text{---} \times \text{---}$
4. The longest chord of a circle is called its  $\text{---}$ .
5. Units of time :
  - a) 1 day =  $\text{---}$  hours
  - b) 1 hour =  $\text{---}$  minutes
6. Identify the types of angle:

a)



b)



PART – B

(2×5=10)

1. Add  
280 m 15 cm , 412 m 37 cm and 608 m 93 cm
2. Find the diameter of circle whose radius is 8 cm.
3. Convert into minutes : 6 hours
4. Multiply 14 L 650 ml by 3



CLASS-V

## Assignment - I

### Social Studies

Answer the following questions:-

Q1 - Name the special doctors who perform surgery?

Q2 - What is microscope?

Q3 - When was stethoscope invented?

Q4 - What is the normal temperature of human body?

Q5 - Which was the important discoveries in the life of early man?

Q6 - Define Hydroelectricity?

Q7 - When and where mineral oil was discovered?

Q8 - When was the first world war started?

Q9 - When do we celebrate UN Day?

Q10 - When was the second world war broke out?



CLASS - V

Assignment - II

Social Studies

Answer the following questions

Q1 - Why penicillin is called the wonder drug?

Q2 - Which vaccines are available to fight disease?

Q3 - Who invented stethoscope?

Q4 - Who invented Diesel engine?

Q5 - When was Diesel engine invented?

Q6 - Name the most important sources of energy?

Q7 - Which are incurable diseases?

Q8 - Who invented antiseptic?

Q9 - Who discovered penicillin?

Q10 - Name some European countries?



Sri Guru Harkrishan Public School , Dugri Road

Examination December 2022

Class V

Paper S.st

MM: 40

Q1: Tick the correct words (3)

- a) Microscopes make small objects look (big/small)
- b) India receives heavy rains during (summer/monsoon)
- c) Cyclones are strong winds accompanied by heavy (snowfall/rainfall)

Q2: Match the following (4)

- |                      |                           |
|----------------------|---------------------------|
| a) James Watt        | Gabriel Daniel Fahrenheit |
| b) George Stephenson | Railway engine            |
| c) Thermometer       | Rene Laennec              |
| d) Stethoscope       | Steam engine              |

Q3: Fill in the blanks (3)

- a) Mass production has many \_\_\_\_\_
- b) Electricity is the most important source of \_\_\_\_\_
- c) Generators were developed to produce \_\_\_\_\_

Q4: Name the following (3)

- a) The study of earthquakes \_\_\_\_\_
- b) Another name for a cyclone \_\_\_\_\_
- c) The city in Gujarat that was hit by earthquake in 2009 \_\_\_\_\_

Q5: Answer the following questions One word (4x1)

- a) Which is an instrument that makes small objects look much bigger
- b) Which is an instrument is used to measure the temperature of human body?
- c) Which was the first drug used for anesthesia?
- d) Who discovered Pasteurization?



Class - Vth  
Subject - Hindi  
Assignment I

I निम्नलिखित वाक्यों में उचित विशेषण भरिए  
(बूढ़े, अच्छे, कई, कितना, इस)

- 1) तुम कितने बच्चे हो।
- 2) दिनों से पानी नहीं आ रहा है।
- 3) संतरे बहुत हैं।
- 4) देखो, \_\_\_\_\_ मैल जमा है।
- 5) \_\_\_\_\_ तालाब में मछलियाँ हैं।

II सही विकल्प चुनें।

- 1) शेर शब्द का स्त्रीलिंग है।  
(a) शेरी  2) शेरनी  3) शेरा
- 2) चूहा शब्द का स्त्रीलिंग है।  
1) चूही  2) चूहिया  3) चूहे
- 3) 'रूपया' का सही बहुवचन होगा।  
1) रूपयों  2) रूपयें  3) रूपयै
- 4) 'अंधकार' का सही विलोम शब्द है।  
1) प्रकाश  2) उजाला  3) रोशनी
- 5) धनी का अर्थ है अमीर, तो उसके विलोम निर्धन का अर्थ होगा।  
1) गरीब  2) अधनी  3) अनधनी

III पढ़ो, समझो और करो।

- 1) लली \_\_\_\_\_
- 2) लय \_\_\_\_\_
- 3) चंद्र \_\_\_\_\_
- 4) नम्र \_\_\_\_\_

IV पर्यायवाची शब्द लिखें।

- सूरज \_\_\_\_\_  
चंद्रमा \_\_\_\_\_

V स्वयं को पेंसिल मानते हुए अपने बारे में 5 पंक्तियाँ लिखें



class 12th  
subject - Hindi

## Assignment II

SGHPS CONTINUOUS SHEET  
Roll No. \_\_\_\_\_  
Date \_\_\_\_\_  
Sheet No. \_\_\_\_\_  
Invigilator's Sign. \_\_\_\_\_

I नीचे दिए गए प्रश्नों के उत्तर दीजिए।

- 1) प्र :- पैदल यात्रा करने में मनुष्य को क्या क्या परेशानियाँ होती थी?
- 2) प्र :- नदी द्वारा यात्रा करने का चलन किस प्रकार आरंभ किया गया?
- 3) प्र :- रबड़ के पैड से कितना दूध निकाला जा सकता है?
- 4) प्र :- चूहा दिल्ली जाकर क्या-क्या करना चाहता है?
- 5) प्र :- चूहे ने दरवाजे पर क्या लगाने के लिए कहा?

II निम्नलिखित पंक्तियों पूरी करो  
बिल्ली एक बड़ी

..... चट कर जाए।

दिल्ली में

लाल किले पर

III निम्न शब्दों का वाक्यों में प्रयोग करें।

1) चित्र -

2) रबड़ -

IV रिक्त स्थान भरें।

1) घोड़े के द्वारा यात्रा करने में समय भी कम लगता था और \_\_\_\_\_ भी कम होती।

2) \_\_\_\_\_ का स्वभाव ही है - चलना।

V निम्न शब्दों के अर्थ लिखें।

अविहकार, प्रभाव,



श्री गुरु हरकृष्ण पब्लिक स्कूल

कक्षा 5

विषय हिंदी

कुल अंक 40

1.अपठित गद्यांश (5)

जंगल में पहुंचकर मोती अपने साथियों को ढूंढने लगा। वह कुछ दूर और आगे बढ़ा तो उसे हाथियों का एक झुंड दिखाई पड़ा पर उसके गले में रस्सी और पांव में टूटी जंजीर देखी तो उन्होंने उसे मुंह फेर लिया। शायद उनका मतलब था कि तुम गुलाम हो तो थे ही पर अब नमक हराम गुलाम हो इसलिए तुम्हारे जगह अब इस जंगल में नहीं है। जब तक वो आंखों से ओझल न हो जाए मोती वहीं खड़ा उन्हें देखता रहा। फिर न जाने क्या सोचकर वहां से भागता हुआ वह महल की ओर चल पड़ा।

1. मोती किसी ढूंढने लगा?

2. मोती भागता हुआ किस ओर चल पड़ा?

3. खाली स्थान भरो।

उसे हाथियों का\_\_ दिखाई दिया।

4. वचन बदलो।

आंख, जंजीर

2. प्रश्न के उत्तर दें। (3\*2=6)

1. रेलगाड़ी कैसी थी और उसे क्या कहा जाता था?

2. रबड़ से कौन सी वस्तुएं बनाई जाती हैं?

3. चूहे ने चुहिया से क्या-क्या मांगा?

3. शब्दार्थ- खबरदार, विश्वास (3)

4. खाली स्थान भरो। (1)



1) ਜੇਠ ਖਿੱਚ ਪੁਸ਼ਕਾਂ ਦੇ ਇਕ ਕਾਂ ਦੇ ਸਥਾਨਾਂ ਵਿੱਚ ਉੱਤਰ ਦਿਉ

5x4=5

1. ਚਾਰਿਆਈ ਰੋਗ ਕਿੰਨੇ ਹੁੰਦੇ ਹਨ ?
2. ਦਰਬਾਰ ਵਿੱਚ ਬੈਠਿਆਂ ਪਿਛਮ ਕਿਸ ਨੂੰ ਚੰਗੀ ਜੀ ?
3. ਮਗਰਮੱਠ ਦੇ ਅੰਗਰੇ ਮੈਰ ਕਿਸ ਤਰ੍ਹਾਂ ਦੇ ਹੁੰਦੇ ਹਨ ?
4. ਨਿੱਮ ਦੇ ਫਲ ਦਾ ਮੁਆਦ ਕਿੰਨੇ ਨਿੱਜ ਹੁੰਦਾ ਹੈ ?
5. ਅਰਥ ਕਿਸ ਤਰ੍ਹਾਂ ਉਹ ਗਿਆ ਸੀ ?

2) ਜੇਠ ਖਿੱਚ ਪੁਸ਼ਕਾਂ ਦੇ ਉੱਤਰ ਦੇ ਕਾਂ ਤਿੰਨ ਸਤਰਾਂ ਵਿੱਚ ਦਿਉ - 5x2=10

1. ਅਸਮਾਨ ਵਿੱਚ ਉੱਚੇ ਨਾਕਾਂ ਨੂੰ ਤਿੰਨੋਂ ਕਿਸ ਤਰ੍ਹਾਂ ਬਣਾਇਆ
2. ਗੁਰਮਤ ਸਿੱਖ ਕਿੰਨੇ ਮਹਿਰਮੇ ਦੇ ਅਰਥ ਸਨ। ਉਨ੍ਹਾਂ ਦੀ ਬਣਾਈ ਵਿੱਚੋਂ ਤੇਰੀ ਸੀ ?
3. ਮਗਰਮੱਠ ਨੂੰ ਪੰਡੀਆਂ ਤਰ੍ਹਾਂ ਵੀ ਨਾਮ ਦਾ ਵੀ ਤ ?
1. ਚਾਰਿਆ ਅਰਥ ਬਾਈ ਦਾ ਪਿਛਮ ਕਿੰਨੇ ਸੀ ਗਿਆ ?
2. ਮੈਂਕੇ ਸਾਨ ਪਾਠਾਂ ਮਗਰਮੱਠ ਵੀ ਕੀ ਸੀ ਕਰਦੇ ?

3. ਦੋ ਬਣਾਉ - 1. ਮੈਂਕੇ (2)  
2. ਆਰਤ

4) ਆਖੀ ਬੋਠਾਂ ਵਿੱਚ ਸਹੀ ਵਿਸ਼ੇਸ਼ ਖਿੱਚ (3)

- |    |       |        |
|----|-------|--------|
| 1. | _____ | ਮਿਰਚ   |
| 2. | _____ | ਫੁਸਕਾਂ |
| 3. | _____ | ਚੁੱਪ   |
| 4. | _____ | ਮਾਗਰ   |
| 5. | _____ | ਪਾਨਰ   |
| 6. | _____ | ਮੈਂਕੇ  |



Dec- 2022  
Sri Guru Harkrishan Public School  
Class-V Paper-Pbi

ਪ੍ਰਸ਼ਨ 1. ਹੇਠ ਲਿਖੇ ਪੈਰੂ ਨੂੰ ਪੜ੍ਹ ਕੇ ਪ੍ਰਸ਼ਨਾਂ ਦੇ ਉੱਤਰ ਦਿਉ (4)

ਵੀਹਵੀਂ ਸਦੀ ਵਿਗਿਆਨ ਦੀ ਸਦੀ ਅਖਵਾਉਂਦੀ ਹੈ। ਵਿਗਿਆਨ ਦੀਆਂ ਕਾਢਾਂ ਮਹਾਨ ਵਿਗਿਆਨੀਆਂ ਦੀ ਮਿਹਨਤ ਦਾ ਫਲ ਹੈ। ਜਗਦੀਸ਼ ਚੰਦਰ ਬੋਸ ਇਕ ਮਹਾਨ ਵਿਗਿਆਨੀ ਸਨ। ਜਗਦੀਸ਼ ਚੰਦਰ ਬੋਸ ਦਾ ਜਨਮ 30 ਨਵੰਬਰ 1858 ਈ ਨੂੰ ਬੰਗਾਲ ਦੇ ਪ੍ਰਾਂਤ ਵਿੱਚ ਹੋਇਆ। ਜਗਦੀਸ਼ ਚੰਦਰ ਬੋਸ ਨੇ ਆਪਣੀ ਮੁੱਢਲੀ ਵਿਦਿਆ ਪਿੰਡ ਦੇ ਸਕੂਲ ਤੋਂ ਹੀ ਪ੍ਰਾਪਤ ਕੀਤੀ। ਉਹਨਾਂ ਨੇ ਬੰਗਾਲੀ ਭਾਸ਼ਾ ਦੇ ਨਾਲ-ਨਾਲ ਅੰਗਰੇਜ਼ੀ ਭਾਸ਼ਾ ਵੀ ਸਿੱਖੀ। ਜਗਦੀਸ਼ ਚੰਦਰ ਬੋਸ ਨੇ ਵਿਗਿਆਨ ਵਿਸ਼ੇ ਵਿੱਚ ਬੀ.ਏ. ਕੀਤੀ। ਫਿਰ ਉਹ ਲੰਡਨ ਯੂਨੀਵਰਸਿਟੀ ਪੜ੍ਹਨ ਲਈ ਚਲਾ ਗਿਆ। ਜਦੋਂ ਵਾਪਸ ਪਰਤ ਕੇ ਭਾਰਤ ਵਾਪਸ ਆਇਆ ਤਾਂ ਉਹ ਵਿਗਿਆਨ ਦੇ ਪ੍ਰੋਫੈਸਰ ਲੱਗ ਗਿਆ।

- (1) ਵੀਹਵੀਂ ਸਦੀ ਕਿਹੜੀ ਸਦੀ ਅਖਵਾਉਂਦੀ ਹੈ ?
- (2) ਜਗਦੀਸ਼ ਚੰਦਰ ਬੋਸ ਦਾ ਜਨਮ ਕਦੋਂ ਹੋਇਆ ?
- (3) ਜਗਦੀਸ਼ ਚੰਦਰ ਬੋਸ ਨੇ ਕਿਸ ਵਿਸ਼ੇ ਵਿੱਚ ਬੀ.ਏ. ਕੀਤੀ ?
- (4) ਉਹ ਕਿਹੜੀ ਯੂਨੀਵਰਸਿਟੀ ਵਿੱਚ ਪੜ੍ਹਨ ਲਈ ਚਲੇ ਗਏ ?

ਪ੍ਰਸ਼ਨ ਨੰ.2 ਕਿਸੇ ਇਕ ਵਿਸ਼ੇ ਤੇ ਲੇਖ ਲਿਖੋ । (5)  
ਦੀਵਾਲੀ, ਸ੍ਰੀ ਗੁਰੂ ਨਾਨਕ ਦੇਵ ਜੀ ।

ਪ੍ਰਸ਼ਨ ਨੰ. 3 (ੳ) ਲਿੰਗ ਬਦਲੋਂ-ਮਰਦ, ਮੋਰ, ਮਾਲੀ, ਜਾਦੂਗਰ (2)  
(ਅ) ਵਚਨ ਬਦਲੋਂ- ਤਾਲਾ, ਕਾਪੀ, ਮੈਂ, ਸੀ (2)  
(ੲ) ਵਿਰੋਧੀ ਸ਼ਬਦ- ਗਰਮੀ, ਗੁਰੂ, ਘਟੀਆ, ਮਹਿੰਗਾ (2)

ਪ੍ਰਸ਼ਨ ਨੰ. 4 ਸਮਾਸੀ ਸ਼ਬਦ ਲਿਖੋ :- (1) ਅਮਨ ਅਤੇ ਚੈਨ (2) ਘੁੰਮਣਾ ਅਤੇ ਫਿਰਨਾ (2)  
(3) ਨੌਕਰ ਅਤੇ ਚਾਕਰ (4) ਸਾਧ ਅਤੇ ਸੰਤ

ਪ੍ਰਸ਼ਨ ਨੰ. 5 ਬਹੁਤੇ ਸ਼ਬਦਾਂ ਦੀ ਥਾਂ ਇਕ ਸ਼ਬਦ ਲਿਖੋ (2)  
(1) ਜਿਸ ਬੱਚੇ ਦੇ ਮਾਪੇ ਮਰ ਚੁੱਕੇ ਹੋਣ  
(2) ਜਿੱਥੇ ਨਾਟਕ ਖੇਡੇ ਜਾਂਦੇ ਹਨ ।

ਪ੍ਰਸ਼ਨ ਨੰ. 6 ਪੜਨਾਵ ਦੀ ਪ੍ਰੀਭਾਸ਼ਾ ਲਿਖੋ । (2)

ਪ੍ਰਸ਼ਨ ਨੰ. 7 ਆਪਣੇ ਸਕੂਲ ਦੇ ਪ੍ਰਿੰਸੀਪਲ ਨੂੰ ਭਰਾ ਦੇ ਵਿਆਹ ਤੇ ਜਾਣ ਲਈ ਅਰਜ਼ੀ ਲਿਖੋ (5)  
ਜਾਂ

ਘੁੱਗੀ ਤੇ ਸ਼ਹਿਦ ਦੀ ਮੱਖੀ ਕਹਾਣੀ ਲਿਖੋ ।

ਪ੍ਰਸ਼ਨ ਨੰ. 8 ਹੇਠ ਲਿਖੇ ਪ੍ਰਸ਼ਨਾਂ ਦੇ ਉੱਤਰ ਇਕ ਜਾਂ ਦੋ ਸ਼ਬਦਾਂ ਵਿੱਚ ਦਿਉ (2)  
1. ਮਗਰ ਮੱਛ ਦਾ ਕੀ ਨਾਂ ਸੀ ?

2. ਪਰੇਡ ਵਿੱਚ ਸਭ ਤੋਂ ਅੱਗੇ ਕੀ ਸੀ ?

ਪ੍ਰਸ਼ਨ ਨੰ. 9 ਹੇਠ ਲਿਖੇ ਪ੍ਰਸ਼ਨਾਂ ਦੇ ਉੱਤਰ ਦੋ ਜਾਂ ਤਿੰਨ ਸਤਰਾਂ ਵਿੱਚ ਦਿਉ (6)

1. ਪਾਣੀ ਦਾ ਪਿਆਲਾ ਕੌਣ ਲੈ ਕੇ ਆਇਆ ?

2. ਕਿਹੜੇ-ਕਿਹੜੇ ਬੀਜਾਂ ਨੂੰ ਬਾਗ ਦੀ ਜ਼ਮੀਨ ਵਿੱਚ ਬੀਜਿਆ ਗਿਆ ?

3. ਹਾਥੀਆਂ ਉੱਤੇ ਕਿਹੜੇ ਬੱਚੇ ਬੈਠੇ ਸਨ ?



## **ASSIGNMENT - 1**

### **CLASS - 5th**

#### **1.SHORT QUES/ANS**

- 1.What is the use of Taskbar in MS Windows?
- 2.What are the different formats in MS - Word?
- 3.What is an accessories menu?
- 4.What is an internet Explorer?
- 5.What are peripheral devices?

#### **2.LONG QUES/ANS**

- 1.How can we change the background color of the slides in MS - Powerpoint?
- 2.What are the Insert Menu Tool Buttons?
- 3.What do you mean by Allignment?

#### **3.ABBREVIATIONS**

- 1.CU -
- 2.CPU -
- 3.UPS -
- 4.ROM -

## **ASSIGNMENT - 2**

#### **1.SELECT THE CORRECT OPTIONS**

- 1.Which one of the following is the default view in Power Point?  
a.slide sorter   b.Notes page   c.Normal   d.Slideshow
- 2.We can change te background of slides by using  
a.Insert tab   b.Animation tab   c.Design tab   d. All of these
- 3.Power Point Presentations made up of  
a.Webpages   b.Pages   c.Slides   D.cANVAS
- 4.Cut,Copy and Paste commands are found in this group.  
a.Clipboard   b.Slides   c. Insert   d.Animation

#### **2.FILLUPS**

- 1.WWW is the \_\_\_\_\_ library that provides us with lots of information.
- 2.\_\_\_\_\_ is a collection of web pages.
- 3.Through a \_\_\_\_\_ we can connect to the Internet.
- 4.You can insert pictures into a slide from the \_\_\_\_\_ group.



5. MS PowerPoint is a software to make presentations, which are made up of several pages called \_\_\_\_\_

### 3. MATCH THE COLUMN

- |               |                                   |
|---------------|-----------------------------------|
| 1. LAN        | does the thinking of the computer |
| 2. Speaker    | local area network                |
| 3. Monitor    | output the sounds                 |
| 4. CPU        | inputs sound by recording it      |
| 5. Microphone | displays output on its screen     |

### 4. MENTION THE DEVICES ARE MAIN OR PERIPHERAL

