

Class - III
Subject - Hindi
Assignment - II

I जोड़कर लिखें

- 1) न + ल =
- 2) ब + त + ख =
- 3) प + न + द + ट =
- 4) थ + र + म + स =
- 5) उ + प + व + न =

II सही मात्रा वाले शब्द पर गोला लगाओ।

- 1) सितार / सीतार
- 2) मद्दल / मद्दली
- 3) चुहा / चूहा
- 4) नौका / नौका
- 5) सैब / सैब

III दिनों के नाम लिखें।

सोमवार

बुधवार

शुक्रवार

IV शरीर के अंगों के नाम लिखें।

- 1.
- 2.

V सब्जियों के नाम लिखें।

- 1.
- 2.

VI पक्षियों के नाम लिखें।

- 1.
- 2.

Class - III
Subject - Hindi
Assignment I

I स्वर लिखें

अ — इ — उ — ऋ ए — ऐ

ओ — अं —

II पंक्ति पूरी करें।

त — — — —

फ — — — —

ट — — — —

III पंक्तियाँ पूरी करें।

नरम — गोल बनाओ

गरमागरम

बड़े — से मिलकर —

किंर तुम लाओ खेल —

कृ. ओ की मात्रा के शब्द लिखें।

1.

2.

IV. प्रश्नों के उत्तर दें।

1) कौन से दिन अधिक नहीं रहते?

2) हम सब मूलतः क्या हैं?

श्री गुरु हरकृष्ण पब्लिक स्कूल
कक्षा -तीसरी
विषय -हिंदी
कुल अंक-40


1. ओ की मात्रा के 5 शब्द लिखे। (5)
2. प्रश्नों के उत्तर दें। (3'2=6)
प्र:-रामू क्या लाएगा?
प्र:-हम सब मूलतः क्या है?
प्र:-किसको लेकर आना है?
3. खाली स्थान भरों। (4)
लड़कियां__रही है।(हंस/हेंस)
__हम जीत गए।(फलतः/अंततः)
उसके पैर में__चुभ गया।(कांटा/ कौंटा)
__उठ रहा है।(धुआ/धुआँ)
4. दिनों के नाम लिखे।(खाली स्थान)(3)
सोमवार __बुधवार__शुक्रवार__इतवार
5. शरीर के अंगों के नाम लिखें।(4)

1. 2. 3. 4.
6. सब्जियों के नाम लिखें।(4)

1. 2. 3. 4.
7. गिनती को हिंदी में लिखें (4)

1_ 5_ 7_ 10_

8. चित्र रचना (5)

1.  -

2.  -

3.  -

4.  -

5.  -

9. निबंध लिखें।(5)

गाय

1. गाय एक_ पशु है।
2. इसकी __ टांगें, दो आंखें एक लंबी_ होती है।
3. यह_ खाती है।
4. इसके दूध से पनीर घी और_बनती है।
5. इसे_ माता कहते हैं।

Assignment Class - II Punjabi M.M. 20.

1. ਜੇਠ ਫਿਰੇ ਖੁਸ਼ੀਆਂ ਦੇ ਉੱਤਰ ਇਹ ਨਾਂ ਦੇ ਸਵਾਰਾਂ ਵਿੱਚੋਂ ਕਿਉਂ - (5)
1. ਬੁਰਕਾ ਕਿਸ ਪੀਟੇ ਚੜ੍ਹਾ ਰਹਿੰਦਾ ਹੈ ?
 2. ਚਿੱਠੀਆਂ ਤੋਂ ਅਤੇ ਵਧੂਤਰ ਕਿਸ ਦੀਆਂ ਹੋ ਸਿੰਗਾਰਦੇ ਹਨ ?
 3. ਏਕੇ ਵਿੱਚ ਕੀ ਹੁੰਦਾ ਹੈ ?
 4. ਗਾਥੀ ਦੀ ਮੰਤਰ ਕਿੱਤੇ ਜਿਹੀ ਹੁੰਦੀ ਹੈ ?
 5. ਸਮੀਰ ਦੇ ਕੇ ਚੜ੍ਹ ਗਿਆ ਮੈਂ ?

2. ਜੇਠ ਫਿਰੇ ਖੁਸ਼ੀਆਂ ਦੇ ਉੱਤਰ ਦੇ ਨਾਂ ਤਿੰਨ ਸੁਭਾਵਾਂ ਵਿੱਚੋਂ ਫਿਰੇ । (10)
1. ਗਾਥੀ ਦੀਆਂ ਕਿਸ ਨਾਮ ਕੌਰ ਕੇ ਖਾਦਾ ਹੈ ?
 2. ਬਾਗ ਵਿੱਚ ਕੋਈ-ਕੋਈ ਤੇ ਕਿੱਥੇ ਰਹਿੰਦੇ ਹਨ ?
 3. ਸੁਭਾ ਵਿੱਚ ਵਧੂਤਰ ਨੇ ਕੀ ਕਿਹਾ ?
 4. ਪੰਛੀ ਮਾਠੀ ਖਾਨੇ ਵਿੱਚੋਂ ਦੂਰ ਕਰਦੇ ਹਨ ?
 5. ਗਰਤ ਵਿੱਚ ਛੁੱਪ ਕੇ ਸੁਰਕਾ ਵਿੱਚੋਂ ਚੜ੍ਹਾ ਜਾਂਦਾ ਹੈ ?

- 3) ਟਾਕ ਵਧਾਉ - (1.) ਗਰਮੀ - (5)
- (2) ਮਿੱਤਰ -
 - (3) ਚੜ੍ਹਤ -
 - (4) ਜਾਨਵਰ -
 - (5) ਅਨੁਸਾਰ -

Assignment Class-III Punjabi

Q.N. I

ਸਾਤ ਦੇ ਅੰਕਾਂ ਦੇ ਸਮ ਨਿਖੇ (6)

ਸ਼ਬਦ 2. ਜੇਕਰ ਕਿਸੇ ਸ਼ਬਦ ਦੇ ਅੱਖਰਾਂ ਦੇ ਸੰਖੇਪ ਨਿਖੇ - (4)

8	22
10	28
14	32
16	40

ਸ਼ਬਦ 3. ਸੁੱਚ ਕਰਕੇ ਨਿਖੇ 1. ਪੁਰਾ 4. ਟਿਕਾ (3)

2. ਪੁਰੀ

(5) ਸੁਰ

3. ਕੋਈ

(6) ਦੁਸਮਰ

ਸ਼ਬਦ 4. ਕਿਸੇ ਦਾ 1. ਪੁਰ 2. ਟਿਕਾ (2)

3. ਤੇਰਾ

(4) ਕੁਝ

ਦੁਸਰੇ 1. ਦੋ 2. ਸਮਾਤ (3)

3. ਕਮ

(4) ਸਮਰ

ਸ਼ਬਦ 5. ਤੇਰੀ ਸਮਾਤ ਦੇ ਬੰਨ੍ਹੇ ਚਿੰਨ੍ਹਾਂ ਪਰ ਦੇਖਣਾ
ਹੋ ਸਕੇ।

ਉਪਰ ਨਿਖੇ ਸਤ ਨੂੰ ਸੁਰ ਨਿਖਾਈ ਦੇਣ ਦੇ ਪ੍ਰਤਿ
ਨਿਖੇ।

Dec- 2022
Sri Guru Harkrishan Public School
Class-III Paper-Pbi

M.M- 40

ਪ੍ਰਸ਼ਨ 1. ਹੇਠ ਲਿਖੇ ਪੈਰ੍ਹੇ ਨੂੰ ਪੜ੍ਹ ਕੇ ਪ੍ਰਸ਼ਨਾਂ ਦੇ ਉੱਤਰ ਦਿਉ

(6)

ਰੂਬੀ ਪੰਜ ਸਾਲ ਦੀ ਸੀ। ਸਾਰੇ ਉਸ ਨੂੰ ਬਹੁਤ ਪਿਆਰ ਕਰਦੇ ਸਨ। ਰੂਬੀ ਦਾ ਭਰਾ ਸੋਨੂੰ ਸੱਤ ਸਾਲਾਂ ਦਾ ਸੀ। ਉਹ ਰੂਬੀ ਨੂੰ ਬਹੁਤ ਪਿਆਰ ਕਰਦਾ ਸੀ। ਉਹ ਰੋਜ਼ ਇੱਕਠੇ ਸਕੂਲ ਜਾਂਦੇ ਤੇ ਇੱਕਠੇ ਹੀ ਪੜ੍ਹਦੇ। ਸ਼ਾਮ ਨੂੰ ਉਹ ਇੱਕਠੇ ਹੀ ਪਾਰਕ ਵਿੱਚ ਖੇਡਣ ਜਾਂਦੇ। ਇਕ ਦਿਨ ਉਹ ਪਾਰਕ ਵਿੱਚ ਖੇਡ ਰਹੇ ਸਨ ਤਾਂ ਉਹਨਾਂ ਨੂੰ ਇੱਕ ਕਤੂਰਾ ਮਿਲਿਆ। ਉਹ ਕਤੂਰੇ ਨੂੰ ਘਰ ਲੈ ਆਏ। ਮੰਮੀ ਨੂੰ ਕਤੂਰੇ ਪਸੰਦ ਨਹੀਂ ਸਨ। ਉਹਨਾਂ ਨੇ ਕਤੂਰੇ ਦੇ ਰਹਿਣ ਲਈ ਘਰ ਦੇ ਬਾਹਰ ਛੋਟਾ ਜਿਹਾ ਕਮਰਾ ਬਣਾ ਕੇ ਦੇ ਦਿੱਤਾ। ਸੋਨੂੰ ਤੇ ਰੂਬੀ ਕਤੂਰੇ ਨੂੰ ਬਹੁਤ ਜ਼ਿਆਦਾ ਪਿਆਰ ਕਰਦੇ ਸਨ। ਉਹ ਉਸ ਨੂੰ ਰੋਜ਼ ਦੁੱਧ ਤੇ ਬੈਂਡ ਖੁਆਉਂਦੇ।

ਅਭਿਆਸ 1. ਰੂਬੀ ਕਿੰਨੇ ਸਾਲ ਦੀ ਸੀ ?

ਪੰਜ ਸੱਤ ਦੱਸ

2. ਰੂਬੀ ਤੇ ਸੋਨੂੰ ਕਿੱਥੇ ਖੇਡਦੇ ਸਨ ?

ਘਰ ਵਿੱਚ ਗਲੀ ਵਿੱਚ ਪਾਰਕ ਵਿੱਚ

3. ਬੱਚਿਆਂ ਨੂੰ ਪਾਰਕ ਵਿੱਚ ਕੀ ਮਿਲਿਆ ?

ਬੱਚਾ ਕਤੂਰਾ ਬਿੱਲੀ

4. ਬੱਚੇ ਹਰ ਰੋਜ਼ ਕਤੂਰੇ ਨੂੰ ਕੀ ਖੁਆਉਂਦੇ ?

ਰੋਟੀ ਮਲਾਈ ਦੁੱਧ ਤੇ ਬੈਂਡ

ਪ੍ਰਸ਼ਨ ਨੰ. 2 ਕਿਸੇ ਇਕ ਵਿਸ਼ੇ ਤੇ ਲੇਖ ਲਿਖੋ।

(5)

ਮੇਰਾ ਸਕੂਲ, ਮੇਰੇ ਮਾਤਾ ਜੀ

ਪ੍ਰਸ਼ਨ ਨੰ. 3 (ੳ) ਲਿੰਗ ਬਦਲੋ- 1. ਪੁੱਤਰ 2. ਲੇਖਕ 3. ਹਾਜ਼ਾ 4. ਬਲਣ

(2)

(ਅ) ਵਚਨ ਬਦਲੋ- 1. ਉੱਚਾ 2. ਨਾਮਕ 3. ਕਿਤਾਬ 4. ਚਿੱਠੀ

(2)

(ੲ) ਵਿਰੋਧੀ ਸ਼ਬਦ- 1. ਇਨ 2. ਠੀਕ 3. ਅਸਲੀ 4. ਆਖਤਰ

(2)

(ਸ) ਸਮਾਸੀ ਸ਼ਬਦ ਲਿਖੋ :- (1) ਅਮਨ ਅਤੇ ਚੈਨ (2) ਸੁੱਖ ਅਤੇ ਦੁੱਖ

(2)

(3) ਉੱਚਾਂ ਤੇ ਨੀਵਾਂ (4) ਇੱਜ਼ਤ ਅਤੇ ਮਾਣ

ਪ੍ਰਸ਼ਨ ਨੰ. 4 ਆਪਣੇ ਸਕੂਲ ਦੇ ਪ੍ਰਿੰਸੀਪਲ ਨੂੰ ਜ਼ਰੂਰੀ ਕੰਮ ਦੀ ਛੁੱਟੀ ਲਈ ਅਰਜ਼ੀ ਲਿਖੋ।

(5)

ਜਾਂ ਲਾਲਚੀ ਕੁੱਤਾ ਕਹਾਣੀ ਲਿਖੋ।

ਪ੍ਰਸ਼ਨ ਨੰ. 5 ਹੇਠ ਲਿਖੇ ਅੰਕਾਂ ਨੂੰ ਸ਼ਬਦਾਂ ਵਿੱਚ ਲਿਖੋ।

(2)

4, 10, 40, 25

ਪ੍ਰਸ਼ਨ ਨੰ. 6 ਹੇਠ ਲਿਖੇ ਪ੍ਰਸ਼ਨਾਂ ਦੇ ਉੱਤਰ ਇਕ ਜਾਂ ਦੋ ਸ਼ਬਦਾਂ ਵਿੱਚ ਦਿਉ।

(3)

1. ਸਾਨੂੰ ਦੁੱਧ ਤੇ ਗਰਮੀ ਕੌਣ ਦਿੰਦਾ ਹੈ ?

2. ਧਰਤੀ ਦੀ ਸ਼ਾਨ ਕੌਣ ਹੈ ?

3. ਏਕੇ ਵਿੱਚ ਕੀ ਹੁੰਦਾ ਹੈ ?

ਪ੍ਰਸ਼ਨ ਨੰ. 7 ਹੇਠ ਲਿਖੇ ਪ੍ਰਸ਼ਨਾਂ ਦੇ ਉੱਤਰ ਇਕ ਜਾਂ ਦੋ ਸ਼ਬਦਾਂ ਵਿੱਚ ਦਿਉ

(6)

1. ਹਾਥੀ ਕਿਹੋ ਜਿਹਾ ਜਾਨਵਰ ਹੈ ? ਬੱਚੇ ਇਸ ਤੇ ਬੈਠ ਕੇ ਕੀ ਕਰਦੇ ਹਨ ?

2. ਸੂਰਜ ਕਿੱਥੇ ਰਹਿੰਦਾ ਹੈ ?

Class-III

Sub - EVS. (Assignment-1)

Q-1. Fill in the blanks:-

1. _____ animals make their own houses.
2. We make a _____ for the sheep.
3. Preying birds eat the _____ of other animals.

Q-2. Write true or False:-

1. Fish swims with the help of its fins. ☐
2. A pen is a non-living thing. ☐
3. Living things need food to eat. ☐
4. A puppy is a living thing. ☐
5. Rock is an example of a man-made thing. ☐

Q-3. Give two examples:-

1. Natural things. _____
2. Man-made things. _____
3. Plants growing in mountains. _____
4. Scorching birds. _____

Q-4. Q1 Ans.

Q-1. How should we take care of plants at home?

Q-2. Make a list of ten things that you see around you, whether they are living or non-living.

Living things.

Non-living things.

1

1

2

2

3

3

4

4

5

5

6

6

7

7

8

8

9

9

10

10

Q-3 Name two domestic animals?

Q-4 Name two wild animals?

Q-5 Which bird is the smallest bird in the world?

Sub-Evs (Assignment-11)

Q-I-

Fill in the blanks:-

- (1) Bees make _____.
- (2) The _____ helps the bird to fly.
- (3) Man-made things are those that are made by _____.

Q-II-

Write True/False

1. Herbs are very small plants. ☐
2. Animals also need shelter. ☐
3. Always close the tap when not in use ☐
4. All living beings on earth need water to live. ☐
5. Living things have life in them. ☐

Q-III-

Give two examples.

1. Birds with short and hard beaks:-

2. Birds with hooked beaks.

3. Plants growing in desert.

4. Living things

Q-IV

Q1 Ans:

Q-1. An aeroplane moves from one place to another? Is it living thing? Why or why not?

Q-2. What happens if the plant is kept in a dark room all day?

Draw a beautiful diagram of one living thing and one non living thing. (4)

Q-3. What are aquatic animals?

Q-4. What are terrestrial animals?

Q-5. Give two examples of arboreal animals?

SRI GURU HARKRISHAN PUBLIC SCHOOL DUGRI ROAD, LUDHIANA
EXAMINATION Dec-2022

Class –III

Paper – EVS

MM: 40

Q1 Answer the following Q/A (One word)

(5)

- 1) Why do birds build a nest?
- 2) Name two domestic animals
- 3) Which bird is the smallest bird in the world?
- 4) What do you call the house of rabbits
- 5) Which bird is used to send messages in olden days?

Q2 Fill in the blanks

(4)

(Domestic , Beehive, Feathers, Flesh,)

- 1) Bee make _____
- 2) We make houses for _____ animals
- 3) Preying birds eat the _____ of other animals
- 4) The _____ helps the bird to fly

Q3 True/False

(3)

- 1) A pen is a non living thing
- 2) A Puppy is a living thing
- 3) A rock is an example of man-made thing

Q4 Match the following

(4)

- | | | |
|------------|---|------------|
| 1. Tree | - | Grape vine |
| 2. Shrub | - | Marigold |
| 3. Herb | - | Mint |
| 4. Climber | - | Eucalyptus |

Q5 Give two examples

(4)

- 1) Plants growing in mountains _____, _____
- 2) Natural things _____, _____
- 3) Man-made things _____, _____
- 4) Living things _____, _____

(12)

Q6 Short Q/Ans

- 1) Name any three places where animals live.
- 2) Name the materials used by birds to build a nest
- 3) What is the use of beak in a bird?
- 4) Name three types of feathers

(5)

Q7 Long Q/Ans (Do any one)

- 1) What are the different parts of a plant?
- 2) Name at least 5 types of birds based on their feet and claws

(3)

Q8 Draw a diagram of 2 living things

① Write the following amounts in words (2)

a) ₹ 125.10

b) ₹ 2.50

2) Convert the following ~~ab~~ amount of money into Paise (2)

(a) ₹ 75

(b) ₹ 96.20

3) Convert into rupees and paise (2)

(a) 2002 P

(b) 803

4) Add the following amounts by converting into Paise (2)

a) 25 rupees 7 paise and 41 rupees 8 paise

(b) 13 rupees 54 paise and 38 rupees 4 paise

5) Add the following amounts (2)

a) ₹ 53.75 + ₹ 72.05 + ₹ 51.80

b) ₹ 404.08 + ₹ 113.62 + ₹ 4.05

6) Subtract (2)

a) ₹ 500.20 - ₹ 183.54

b) ₹ 107.05 - ₹ 99.87

7) Multiply (2)

(a) ₹ 12.72 × 8

(b) ₹ 42.18 × 4

8) Divide (2)

(a) ₹ 40.40 ÷ 8

(b) ₹ 345.45 ÷ 5

(9) ₹ 1 = _____ Paise (2)

305 P = ₹ _____

10) Subtract by converting into Paise (2)

(a) 29 rupees 20 paise from 41 rupees 25 paise

(b) 45 rupees 15 paise from 77 rupees 17 paise

Assignment-2

Subject: Maths

M.M-20

(1) Convert the following into Centimetres (2)
(a) 5 m 3 cm (b) 71 m 20 cm

(2) Convert the following into metres and Centimetres (2)
(a) 724 cm (b) 1307 cm

(3) Add

(a) 76 m 40 cm + 48 m 70 cm (2)
(b) 47 m 81 cm + 5 m 48 cm

(4) Find the difference between (2)
(a) 35 m 60 cm and 5 m 50 cm
(b) 31 m and 20 m 90 cm

(5) Fill ups (2)

(a) 2000 cm = _____ m (c) _____ g = 1 kg
(b) 100 cm _____ m (d) 1 litre = _____ ml

(6) Convert into kilograms to grams (2)
(a) 9 kg (b) 4 kg 302 g

(7) Divide the following (8)
(a) $248 \div 2$ (b) $345 \div 3$ (c) $972 \div 4$ (d) $1395 \div 5$

(e) $2864 \div 6$ (f) $3462 \div 7$ (g) $9004 \div 8$ (h) $8217 \div 9$

PART - A

(1×6=6)

1. Write the amount in figures : 36 rupees 50 paise
2. Convert into paise : 6 rupees
3. A) 1 L = ____ ml
B) 1 Kg = ____ g
4. ₹ 19.07 = ____ rupee ____ paise
5. Divide ₹ 12.4 ÷ 4
6. A) ₹ 1 = ____ paise
B) ₹ 5 = ____ paise

PART - B

(2×5=10)

1. Write the amount in words : ₹ 46.90
2. Add the amount by converting into paise :
40 rupees 35 paise and 39 rupees 55 paise
3. Convert into centimetres : 4 m 63 cm
4. Arrange in columns and add: 54 m 75 cm and 62 m 31 cm
5. Multiply :
a) ₹ 23.10 × 3
b) ₹ 13.76 × 5

PART - C

(3×4= 12)

1. Convert into milliliters:
a) 5 l
b) 10 L 130 ml
2. Arrange in columns and add :
₹ 65.75, ₹ 72.45 and ₹ 51.92
3. Hari bought 5 kg 150 g mangoes, 3 kg 050 g of apples and 7 kg 332 g oranges. Find the total weight of fruits.
4. Arrange in columns and add :
17 kg 706 g and 108 kg 189 g

PART - D

(4×3=12)

1. Divide the following :

a) ₹ 96 ÷ 3

b) ₹ 316 ÷ 2

2. Subtract :

a) ₹ 69 . 75

₹ 38 . 50

b) ₹ 318 . 34

₹ 198 . 76

3. Use scale and draw line segments

a) AB = 4 cm

b) RS = 6 cm

Assignment-1
subject: English
Class-3

Read the passage and answer the following questions

Birds always attract children. They are of different types, colours, and nature. We have the smallest bird - the humming bird and the biggest one ostrich. Our national bird peacock is also a large and beautiful bird. Birds are of various colours as sparrows are grey, white and black, Parrots - light green, pigeon - light grey, white etc. Pigeons, sparrows, parrots etc are of quite nature. Hawk, kite, vulture crow etc are predators.

- Q1. What do birds always do?
- Q2. Which is the smallest bird?
- Q3. Which is the biggest bird?
- Q4. Which bird is our national bird?
- Q5. Fill in the blank
Birds always _____ children.

Part-B

- A Write an application to your Principal for full fee concession
- B Write a letter to your uncle thanking

him for a birthday gift.
C Write a Paragraph on 'Republic Day'

Part - C

- Q1 What do the monkey and squirrel bring for everyone at the party?
Q2 Who makes pasta for everyone?
Q3 Why is the bear angry from Binny?
Q4 What did Deepak want to become?
Q5 What was Dr APJ Abdul Kalam's favourite subject in school?
Q6 How would the children of Deepak's village and the nearby areas benefit from the new school?

B Write the meanings of the following words

1. Giggles
2. Merage
3. Functional
4. Majestic
5. Guardians
6. Fresh
7. Ceiling
8. Creatures
9. Boughs
10. Numerous

Assignment 2

subject English

A Choose the correct Preposition

1. The duck is _____ the pond.
2. The monkey is _____ the tree.
3. A jug is _____ the table.
4. He is playing _____ the garden.
5. The teacher divided the sweets _____ all the students.

B Fill in the blanks with suitable articles

- 1) This is a picture of _____ umbrella.
- 2 _____ sun rises in the east.
3. She is reading _____ book.
- 4 He is _____ honest man.
- 5 _____ river is full of water.

C complete the sentences using the present continuous form of the verb given in the brackets

- 1) The lion is _____ for the rabbit. (wait)
2. Sam _____ for his brother. (look)
3. The mouse _____ the bread. (eat)
- 4 They _____ a beautiful song. (sing)
- 5 People _____ at the stranger.

Fill in the blanks with the past continuous form of verb given in the brackets.

1. The dogs _____ all night. (bark)
2. The kid _____ television. (watch)
3. The naughty boy _____ in the class.
(talk)
4. The children _____ hide and seek.
(Play)
5. The students _____ their assignment
(Complete)

Section -A

Read the following passage and answer the questions given below:. (5 Marks)

The smile is the best tonic for our mind and body. It takes thirteen muscles to smile, but forty-three to be angry. So, it is easier to smile and difficult to be angry. To be cheerful, we have to create positive thoughts. On the other hand, if we constantly think about negative things, we feel unhappy. So, the best way to avoid a negative idea is to replace it with a positive one. When we are relaxed in bed, we should practise putting some cheerful thoughts.

- Q1. What is the best tonic for our mind and body?
- Q2. What should we do to be cheerful?
- Q3. What is the best way to replace a negative idea?
- Q4. What should we practise when we are relaxed in bed?
- Q5. Write the opposite of negative - _____

Section-B

- 1. Write an application to your principal for an urgent piece of work. (4 Marks)
- 2. Look at the picture and write 5 lines about it. (4 Marks)



Section -C

A) Read the extract carefully and answer the questions. (3 Marks)

They hold the wind in their boughs
Offer homes to all kinds of birds
Call the rain for welcome showers
I would like them to be my guardians

- Q1. Write the name of the poem. _____
- Q2. Write the rhyming word of Showers. _____
- Q3. What is the meaning of boughs? _____

(8 Marks)

B) Answer the following questions.

- Q1. What seemed to welcome Deepak to school?
Q2. Who brings a pizza for all animals and what was special about it?
Q3. "I can't enter my house" who said these words to whom?
Q4. Where was Dr. APJ Abdul Kalam born?

(4 Marks)

C) Write the meaning of the following words.

1. Functional
2. Tender
3. Naughty
4. Numerous

(2 Marks)

D) Tick the correct answer.

1. The animals have gathered to _____

A) study b) party c) play. D) work

- 2) Abdul Kalam was elected the president of India in _____

a) 2000. B) 2002. c) 1992. D) 2005

(1 Mark)

E) Fill in the blank.

- 1) Binny had hit the monkey with a _____ .

F) True/False

(1 Mark)

- 1) Deepak sat down near the blackboard before the teacher entered the class. _____

Section-D

(8 Marks)

A) Fill in the blank with suitable articles (a, an, the)

1. He is _____ honest man.
2. _____ Moon is shining in the sky.

B) Choose the correct preposition

1. I live _____ London. (on/in)
2. The lion is sleeping _____ the tree. (under/at)

C) Fill in the blanks with present continuous form of verb given in the brackets.

1. The horses _____ on the road. (run)
2. The mouse _____ the bread. (eat)

D) Fill in the blanks with past continuous form of verb given in the brackets.

1. She _____ her new dress. (stitch)
2. The children _____ hide and seek. (play)

ASSIGNMENT - 1

CLASS - 3rd

1.SHORT QUES / ANS

- 1.Who invented Computer?
- 2.What is Internet?
3. Which tool is used to save a drawing?
4. How many enter keys are there on the keyboard?
5. What do we use the backspace key for?

2.LONG QUESTION ANSWER

- 1.Why is the computer used in a bank?
- 2.What are the uses of the Internet?
3. Name five places where computers are used for doing work?

3. SOLVE THE GRID

Fun Time

Find out the words given below in the puzzle and encircle them.

N	E	W	S	S	C	L	O	S	E
C	R	O	P	E	N	E	S	A	X
R	D	R	E	B	L	A	N	K	I
T	V	D	O	C	U	M	E	N	T
M	J	P	N	A	S	R	N	O	W
M	S	A	V	E	R	Q	N	X	Z
N	N	D	P	T	M	T	X	X	Y

WORDPAD
DOCUMENT
NEW
OPEN
SAVE
EXIT
CLOSE
BLANK

H.O.T.S.
What are the word processes being used on computers today?

5. UNSCRAMBLE THE LETTERS

- 1.YEKAOBDR -
- 2.UOMES -
- 3.REESCN -
4. RONIMOT -
- 5.UPC -

ASSIGNMENT - 2

1.FILLUPS

- 1.Blaise Pascal invented a machine named _____
(Abacus / Pascaline)
2. The computer is used in an office for keeping _____ (videos / records)
- 3.ENIAC was the _____ successful modern electronic computer (First/ Second)
4. We can communicate with one another using the _____ feature of the internet (E - mail / Post- mail)
5. The computer is used by the _____ for matching the fingerprints of criminals (Fire brigade / Police)

2.TRUE/ FALSE

1. We cannot write letters on computers - _____
2. We can use the computer to play games and do mathematics-_____
3. The upss connected to the main power supply-_____
4. There is no need to shutdown the computer - _____
5. A Mouse helps us draw objects - _____
6. Word pad is a drawing program- _____

3.TICK THE CORRECT OPTION

3. Tick (✓) the correct options.

a. We use the to search for information.
(i) Television (ii) Music player (iii) Internet


b. The Internet Explorer is a
(i) Website (ii) Software (iii) Web page


c. To connect two or more computers, the following device is required.
(i) Modem (ii) Printer (iii) Friends


d. Which of the following is the largest collection of information on the Internet?
(i) Website (ii) Browser (iii) www

e. Which of the following is not a web browser?
(i) Mozilla Firefox (ii) Internet Explorer (iii) MS Word

4.







4. MATCH THE COLUMN

